


Dženah



Cycle 3

PORTFOLIO

Dženan, 9 Jahre

September 2017 - März 2018

Dzeman 4.12.2017

Portfolio

Was ist es?

Es ist eine Mathematikaufgabe aus dem Buch Multiplizieren und Dividieren.

Warum hast du das ausgewählt?

Ich habe das ausgewählt, weil ich das im Zyklus 2 nicht konnte und jetzt kann ich es aber endlich.

Was hast du hier dazu gelernt?

Ich habe die Einmaleinstabelle besser gelernt.

Was es schwierig oder einfach? Warum?

Es war einfach, weil ich ein paar Mal zu Hause übte und deswegen war es einfach.

Musst du noch üben? Und was musst du üben?

Ich muss noch die Einmaleins Tabelle lernen um sie nicht zu vergessen.

Wiederholung und Vertiefung

27.9.2017

Datum

Erst das Datum,
dann die Seite und die
Aufgabennummer
aufschreiben.



2	2.9.	5.5
1 a)	$5 \cdot 7 = 35$	
	$6 \cdot 7 =$	

1 Schreibe wie Flo in dein Heft.

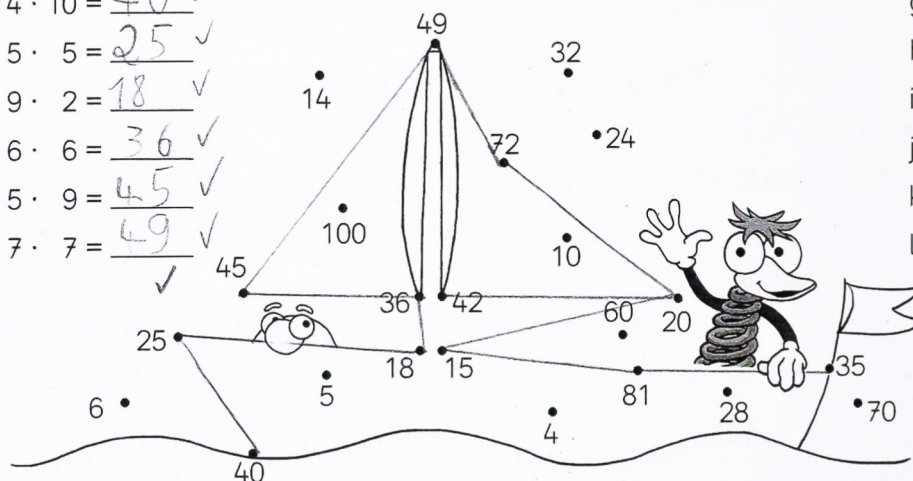
- | | | |
|----------------|----------------|----------------|
| a) $5 \cdot 7$ | b) $4 \cdot 4$ | c) $3 \cdot 8$ |
| $6 \cdot 7$ | $5 \cdot 4$ | $4 \cdot 8$ |
| $3 \cdot 7$ | $8 \cdot 4$ | $6 \cdot 8$ |
| d) $3 \cdot 6$ | e) $3 \cdot 9$ | f) $5 \cdot 5$ |
| $8 \cdot 6$ | $6 \cdot 9$ | $7 \cdot 5$ |
| $9 \cdot 6$ | $4 \cdot 9$ | $9 \cdot 5$ |

- 2 a) $3 \cdot 4$ b) $7 \cdot 4$ c) $0 \cdot 5$ d) $8 \cdot 7$ e) $2 \cdot 7$ f) $7 \cdot 7$
 $6 \cdot 1$ $5 \cdot 8$ $5 \cdot 9$ $6 \cdot 0$ $8 \cdot 3$ $9 \cdot 9$

3 Verbinde die Ergebnisse der Reihe nach.

- a) $4 \cdot 10 = 40$ ✓
 b) $5 \cdot 5 = 25$ ✓
 c) $9 \cdot 2 = 18$ ✓
 d) $6 \cdot 6 = 36$ ✓
 e) $5 \cdot 9 = 45$ ✓
 f) $7 \cdot 7 = 49$ ✓

- g) $9 \cdot 8 = 72$ ✓
 h) $4 \cdot 5 = 20$ ✓
 i) $7 \cdot 6 = 42$ ✓
 j) $3 \cdot 5 = 15$ ✓
 k) $9 \cdot 9 = 81$ ✓
 l) $5 \cdot 7 = 35$ ✓



4

a)	.	3	6	9
	5	15	30	45
	4	12	24	36
	7	21	42	63

b)	.	2	5	4
	7	14	35	28
	8	16	40	32
	0	0	0	0

c)	.	8	7	3
	6	48	42	18
	9	72	63	27
	4	32	28	12

- 5 a) $7 \cdot 5 =$ b) $7 \cdot 9 =$ c) $\cdot 8 = 40$ d) $\cdot 8 = 32$
 $6 \cdot = 36$ $\cdot 7 = 21$ $6 \cdot = 54$ $7 \cdot 7 =$
 $\cdot 10 = 30$ $4 \cdot = 16$ $9 \cdot 5 =$ $\cdot 2 = 20$

- 6 a) $18 = 6 \cdot$ b) $= 3 \cdot 4$ c) $64 = 8 \cdot$ d) $= 3 \cdot 5$
 $25 = \cdot 5$ $0 = \cdot 8$ $= 9 \cdot 8$ $36 = \cdot 9$
 $= 7 \cdot 6$ $35 = \cdot 5$ $45 = 5 \cdot$ $28 = 4 \cdot$

5.12.2017

Portfolio

Was ist es?

Das ist eine Mathematikaufgabe aus dem Geometrie-
Buch. Sie heißt Freihand zeichnen.

Warum hast du das ausgewählt?

Ich habe das ausgewählt, weil ich da alles
richtig hatte.

Was hast du hier dazu gelernt?

Ich habe gut gelernt ohne Lineal zu zeichnen.

War es schwierig oder leicht? Warum?

Es war leicht, weil ich das kopiert habe.

Was musst du noch üben?

Ich muss noch besser zeichnen.

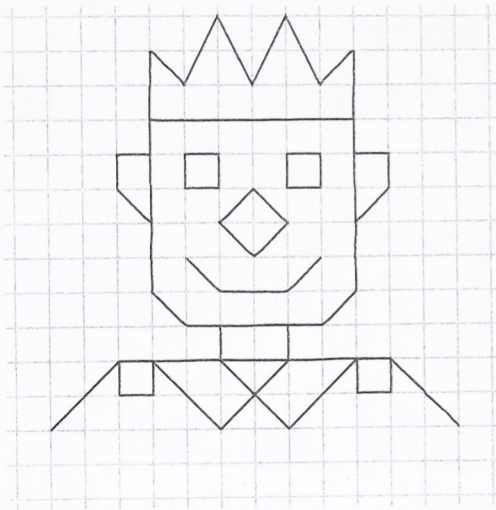
Freihandzeichnen

24.9.2017
Datum

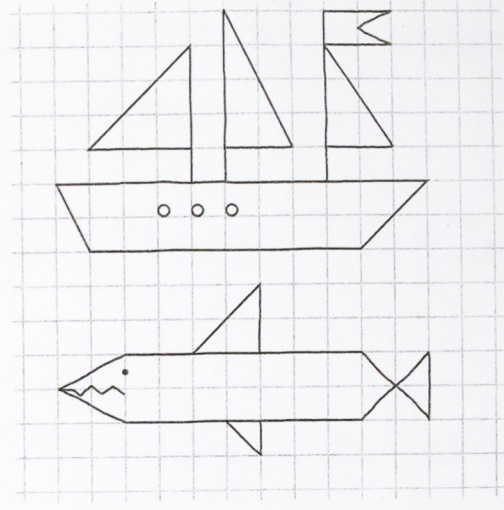
1 Zeichne die Figuren.



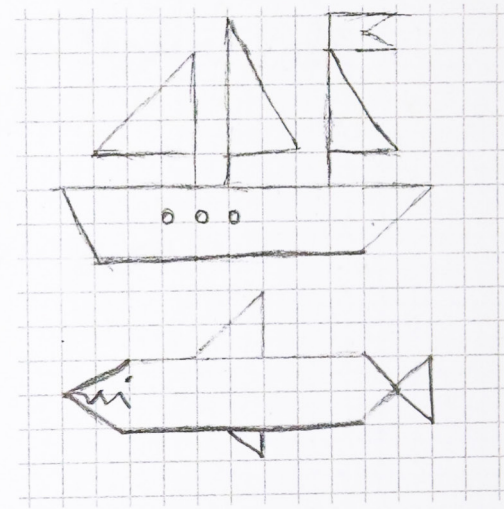

a)



b)



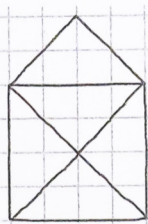
Gut!



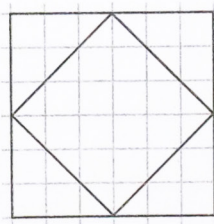
2 Zeichne ohne abzusetzen. Zeichne keine Linie doppelt.




a)



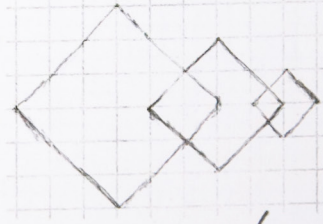
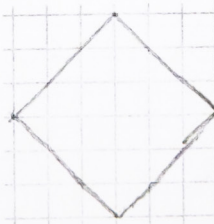
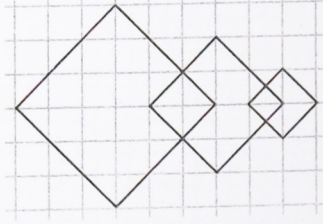
b)



c)



d)



✓

Portfolio: Geometrie

Was ist es?

Es ist eine Geometrieaufgabe. Die Aufgabe heißt Ansichten.

Warum hast du das ausgewählt?

Ich habe diese Aufgabe ausgewählt, weil ich Geometrie liebe und weil ich ich viel dazu gelernt habe.

Was hast du dazu gelernt?

Ich habe fünf Ansichten gelernt. Sie heißen: vorne, links, hinten, rechts und oben.

Was es leicht oder schwer / könnt noch üben?

Es war leicht, weil ich nur malen musste und ein kleiner Text schreiben musste. Ich muss nicht mehr üben.

Ansichten

7.3.2018

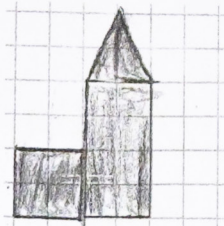
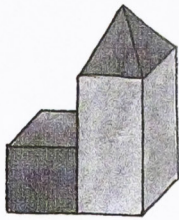
Datum

1

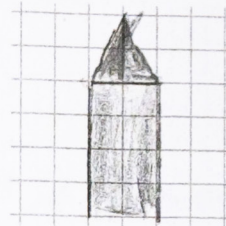
Zeichne zu den Gebäuden die Ansichten.



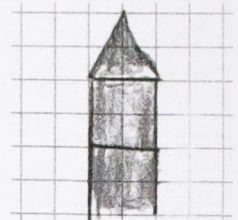
a)



von vorn


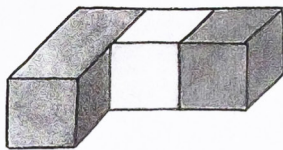


von rechts




von links


b)



von vorn

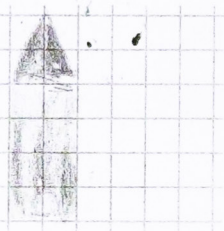
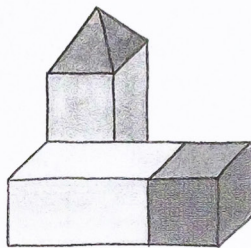


von oben

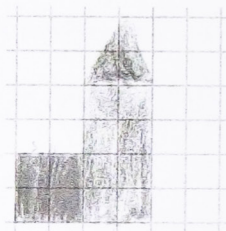


von hinten


c)



von links



von rechts



von hinten

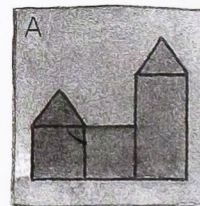

2



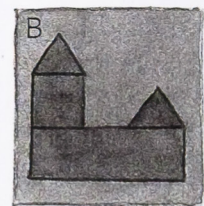
a) Welche Bilder passen nicht zu dem Gebäude? Streicht durch und begründet.

Der C passt nicht weil er zwei große Türme hat und der D passt nicht weil der große Turm nach rechts muss und der kleine Turm nach links muss.


b) Von welcher Seite wurden die passenden Bilder jeweils gemacht?



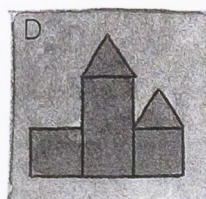
von vorn



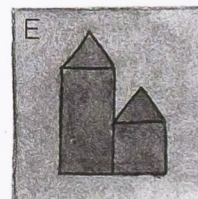
von hinten



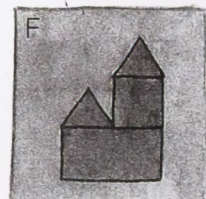
X



X



von rechts



von links



Portfolio

Was ist es?

Es ist eine mathematischaufgabe aus dem Buch Addieren und Subtrahieren. Ich musste addition und subtraktion rechnen.

Warum hast du das ausgewählt?

Ich habe das ausgewählt, weil ich sehr viele Tricks gelernt habe.

Was hast du dazu gelernt?

Ich habe plus und minus gelernt und auch noch wie man Rechnungen macht.

Welche Tricks?

Ein Trick ist, wenn ich $50 + 27$ rechnen muss, dann rechne ich so:

$$50 + 20 = 70$$

$$70 + 7 = 77$$

Ich addiere zuerst die zehner dann die einer.

Was es rechnen oder lernen?

Es war einfach weil ich diese Rechnungen schon rechnen konnte.

19.2.2018

Add und Sub.-Aufgabe 6. Seite 6.

$$13 + 42 = 55 \quad (A) \quad (D) \quad 63 - 52 = 11$$

$$14 + 42 = 56 \quad 63 - 42 = 21$$

$$15 + 42 = 57 \quad 63 - 32 = 31$$

$$16 + 42 = 58 \quad 63 - 22 = 41$$

$$17 + 42 = 59 \quad 63 - 12 = 51$$

(B)

$$24 + 31 = 55$$

$$24 + 41 = 65$$

$$24 + 51 = 75$$

$$24 + 61 = 85$$

$$24 + 71 = 95$$

(D)

$$58 - 25 = 33$$

$$57 - 24 = 33$$

$$56 - 23 = 33$$

$$54 - 22 = 32$$

$$55 - 21 = 32$$

(E)

$$79 - 43 = 36$$

$$78 - 44 = 34$$

$$77 - 45 = 32$$

$$76 - 46 = 30$$

$$75 - 47 = 28$$

✓

Was ist es?

Ich habe eine Viertonaufgabe ausgewählt.

Sie heißt Zauberkiste

Wieso habe ich das ausgewählt?

Ich habe das ausgewählt, weil jeder einen Portfolio über die Zauberkiste machen muss.

Warum habe ich diese Sachen ausgewählt?

Ich habe ein Auto mitgenommen, weil ich gerne Kartenspiele spiele.

Ich habe eine Flöte mitgenommen weil ich gerne Musik mache.

Ich habe einen Zauberwürfel mitgenommen

weil ich gerne mit ihm spiele und weil ich seit Jahren probiere

alle vier Seiten zu machen. Ich habe einen Ball mitgenommen. Ich

habe meinen Roboter mitgenommen, weil ich gerne mit ihm spiele und

weil ich ihn schon lange habe. Ich habe meinen Drache mitgenommen

weil ich mit ihm spiele.

